

Merci de respecter ce travail



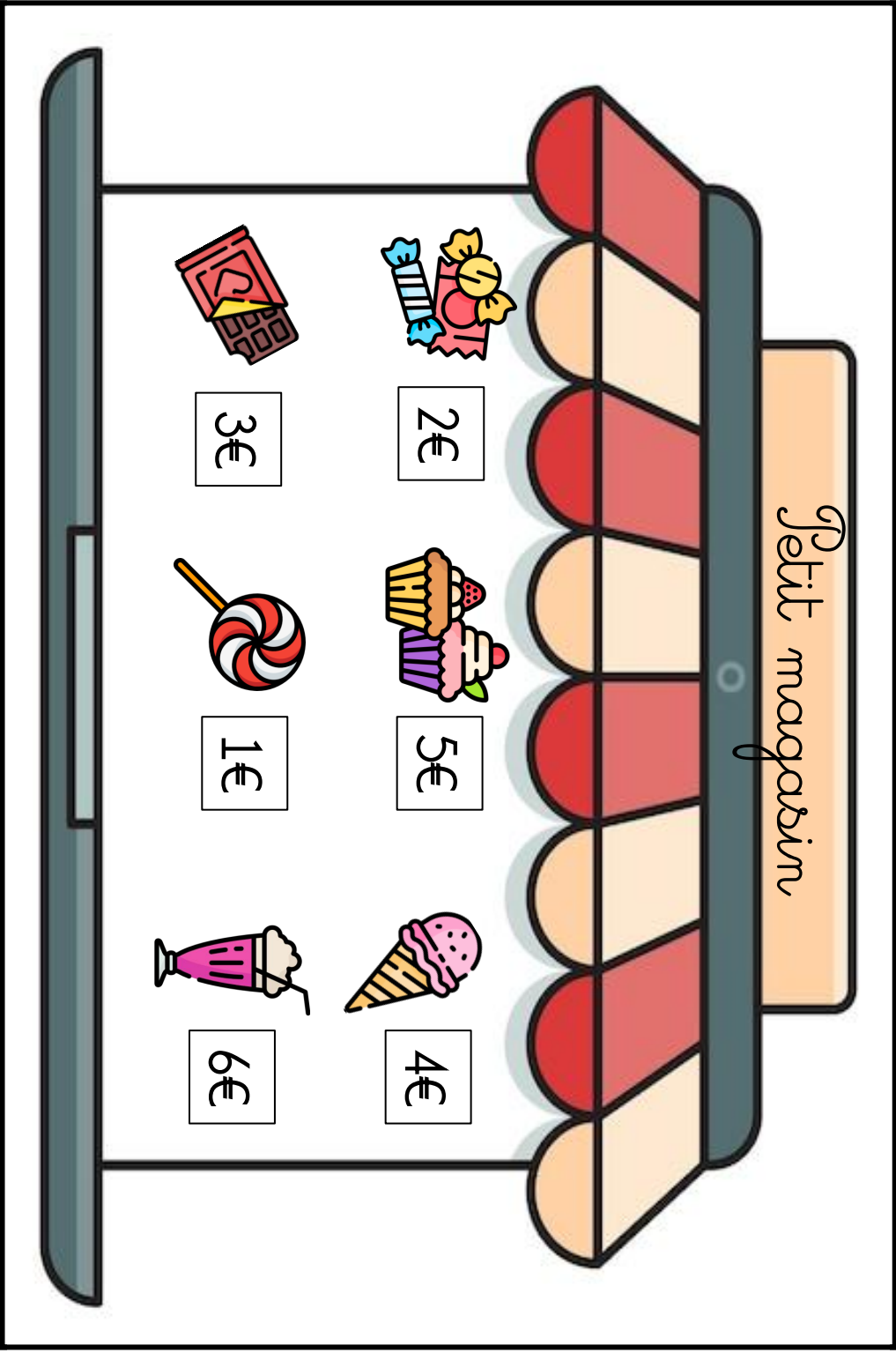
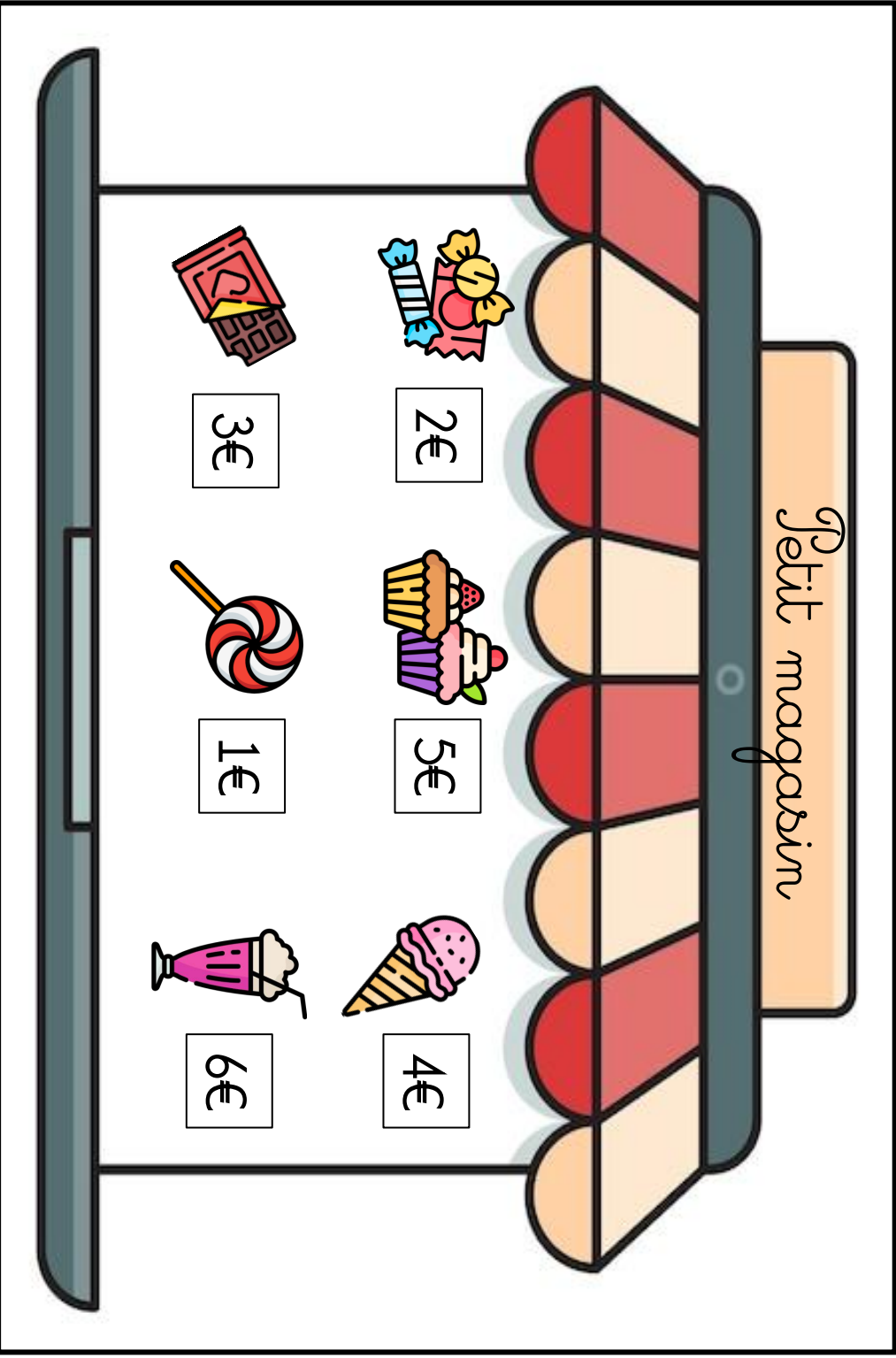
Ce document est strictement confidentiel. Toute reproduction, distribution ou utilisation non autorisée de son contenu est interdite sans l'accord préalable écrit de The Teachin'box - By Madame Marie

Autorisé	Interdit
Imprimer ce document pour votre classe ou pour votre usage personnel.	Publier le document sur un site Internet, dans un groupe Facebook ou sur une page.
Acheter des licences supplémentaires pour le reproduire pour vos collègues.	Partager ce document avec vos collègues. Merci de les rediriger vers www.teachinbox.be .
Evoquer le produit sur votre page, réseau social, compte privé ou professionnel sans en dévoiler le contenu total et en citant The Teachin'box - By Madame Marie.	Modifier ou reproduire le document et vous en approprier le contenu.

En achetant le fichier, vous reconnaissez qu'il s'agit de la propriété de The Teachin'box - By Madame Marie et que vous ne pouvez l'utiliser que votre usage personnel ou pour votre classe. Il est interdit de partager ce fichier sur internet, de le reproduire ou de le modifier. Tous les droits sont réservés à The Teachin'box - By Madame Marie. La reproduction d'une quelconque partie du produit sur internet est détectable et constitue une violation du EUCD (Directive européenne sur l'harmonisation de certains aspects du droit d'auteur et des droits voisins dans la société de l'information).

Illustrations





Petit magasin



Petit magasin





Carte 1 : 5€	Carte 11 : 5€
Carte 2 : 6€	Carte 12 : 6€
Carte 3 : 6€	Carte 13 : 4€
Carte 4 : 7€	Carte 14 : 5€
Carte 5 : 3€	Carte 15 : 8€
Carte 6 : 4€	Carte 16 : 7€
Carte 7 : 7€	Carte 17 : 8€
Carte 8 : 8€	Carte 18 : 3€
Carte 9 : 6€	Carte 19 : 8€
Carte 10 : 4€	Carte 20 : 8€




Carte 1 :	Carte 11 :
Carte 2 :	Carte 12 :
Carte 3 :	Carte 13 :
Carte 4 :	Carte 14 :
Carte 5 :	Carte 15 :
Carte 6 :	Carte 16 :
Carte 7 :	Carte 17 :
Carte 8 :	Carte 18 :
Carte 9 :	Carte 19 :
Carte 10 :	Carte 20 :

1




€



2




€



3



€



4



€



5



€



6




€



7



€



8




€




9



€



10



€



11



€




12




€



13




€



14




€



15



€



16




€



17



€



18




€



19




€



20



€







Prénom :

Problèmes

Le petit magasin

En utilisant les pièces et les billets, représente € de 3 façons différentes :



Combien va payer chaque personnage ?



€



€



€



€



€

